

Rechnen mit Pallimchen




— Ich liebe
Obst!




Mehr zu Pallimchen findest du auf unserem [Blog für Kinder](#).

Im Garten wächst viel Obst. Wie viel Obst ist in jeder Schüssel?


- ▶ **1 Apfel** ist in der Schüssel, und dann kommt noch **einer** dazu.
Wie viele Äpfel sind jetzt in der Schüssel?




- ▶ **2 Birnen** sind in der Schüssel. Dann kommt noch **1 Birne** dazu.
Wie viele Birnen sind jetzt in der Schüssel?



- ▶ **2 Orangen** sind in der Schüssel. Dann kommen noch **2 Orangen** dazu.
Wie viele Orangen sind in der Schüssel?



- ▶ **3 Kirschen** sind in der Schüssel. Dann kommen noch **2 Kirschen** dazu.
Wie viele Kirschen sind jetzt in der Schüssel?



Und jetzt gibt es einen **Obstsalat**:

- ▶ In der Schüssel sind **1 Birne** und **1 Apfel**. Dann kommt noch **1 Orange** dazu und noch **2 Kirschen**.
Wieviel Obst ist in der Schüssel?

